

二林高中 111 學年度上學期社會領域補考題庫 (國中部 3 年級)

班級：_____ 座號：_____ 姓名：_____

只要歷史、地理、公民任一科不及格，都要複習三科題庫；並於補考時，完整作答歷史、地理、公民的題目。

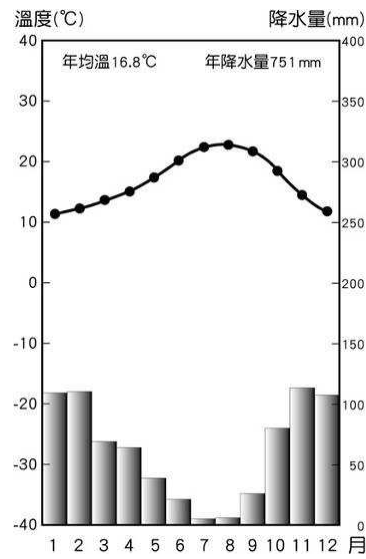
二林高中 111 學年度第一學期 國三歷史補考題庫

- 羅馬史上自從何人的勵精圖治，開創日後二百年的「羅馬和平」，奠定了安定繁榮的基礎？(A)凱撒 (B)屋大維 (C)君士坦丁 (D)狄奧多西。
- 古希臘因地形造成城邦並立的現象，其中「雅典」與「斯巴達」在經濟、教育和政治型態當中有何異同？(A)兩者皆以農業為主 (B)斯巴達文化鼎盛，有全希臘的學校之稱 (C)雅典的官員以抽籤方式產生 (D)前者實施專制統治，後者則為民主政治。
- 母語教學已經是現代教育中普遍接受的觀念。請問：在西方歷史上，各民族、各地方廣泛使用母語從事寫作，這種現象是出現在哪個階段？(A)希臘化時代 (B)羅馬帝國時代 (C)中古封建時代 (D)文藝復興時代。
- 十六世紀西方宗教改革運動發生後，發展出許多新的教會組織，其中對中國明末清初中西文化交流貢獻最大的利瑪竇是屬於哪一教派？(A)耶穌會 (B)路德教派 (C)喀爾文教派 (D)英國國教派
- 哥白尼雖然身為波蘭的傳教士，但從小就對天文知識感到興趣，他所提出的天文學理論，開啟了科學家們重新思索大自然的現象。請問：下列有關於哥白尼的描述何者正確？(A)他與伽利略和牛頓同樣誕生於 16 世紀 (B)他曾質疑天主教的「地球中心說」 (C)他證實了伽利略的「太陽中心說」 (D)他提出太陽為宇宙中心的理論至今仍是天文學不變的定律。
- 啟蒙運動時期有位思想家號召許多學者共同編輯百科全書，集合當時的各種知識以及各派學者論點，以有系統的方式介紹，客觀的呈現知識並加以批判檢討。請問：這位思想家是何人？(A)培根 (B)笛卡兒 (C)狄德羅 (D)伽利略。
- 英國文學家霍爾曾以「我不同意你所說的每一句話，但我誓死捍衛你有說話的權利。」這句話來形容十八世紀的一位法國啟蒙運動思想家捍衛言論自由的貢獻，請問這位思想家最有可能為下列何人？(A)盧梭 (B)洛克 (C)伏爾泰 (D)孟德斯鳩。

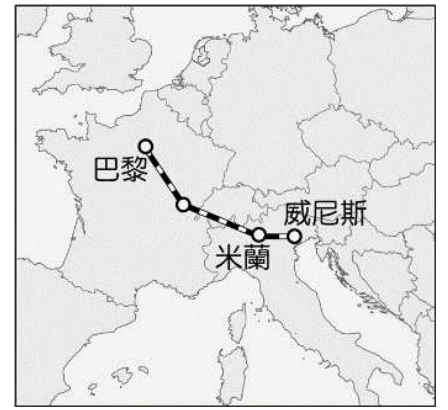
答案: BCDABCC

二林高中 111 學年度第一學期 國三地理補考題庫

- () 附圖(一)為歐洲某一氣候類型圖。根據圖中的資料判斷，該圖應該屬於何種氣候類型？
(A)溫帶地中海型氣候
(B)溫帶海洋性氣候
(C)溫帶季風氣候
(D)溫帶大陸性氣候。



圖(一)

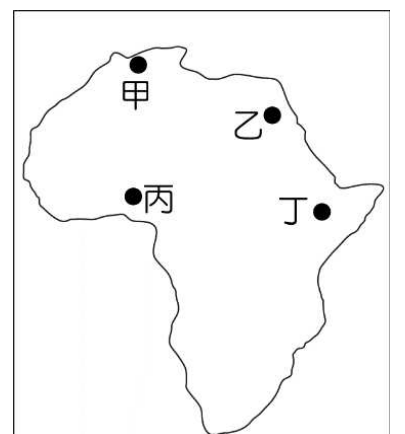


圖(二)

- () 風力發電的裝置量與發電量在歐洲地區愈來愈高，如今丹麥的風力發電能已占該國電量的47%，愛爾蘭、英國和德國的比例也逐年提高。請問：歐洲地區可利用下列哪一個盛行風向來發電？
(A)東北季風 (B)東南信風 (C)西風 (D)東風。
- () 暑假前往義大利北部旅遊的小美，規畫從威尼स्ता乘夜間臥鋪火車，前往法國巴黎，挑戰「義大利吃晚餐，法國吃早餐」的跨國旅程，路線如附圖(二)。請問小美搭乘的火車，在其中一段路線經過幾次長長的隧道，是因為火車穿越哪一座山脈？
(A)烏拉山 (B)喀爾巴仟山
(C)阿爾卑斯山 (D)斯堪地那維亞
- () 中南美洲北部的高原或山間盆地，是人口聚居、都市分布的精華區，其主要原因為何？
(A)溼熱宜於農耕 (B)氣候涼爽宜人
(C)礦產資源豐富 (D)林業非常發達。
- () 美國加州生產的葡萄類別超過70種，基本上分為綠色、紅色、黑色，其產季從5月至隔年1月，每年約有500家葡萄種植者生產約1億箱的新鮮葡萄行銷到全世界超過60個國家。請問：美國葡萄種植區主要分布於附圖中何處？
(A)甲(B)乙(C)丙(D)丁。



- () 非洲大陸的部分國家是由多個族群組成，因此國內族群突不斷。造成這種現象的主要原因為何？
(A)地形阻隔 (B)殖民歷史
(C)宗教傳播 (D)區域發展不均。
- () 非洲多為熱帶氣候，因此適合發展熱帶栽培業，其中有一個國家的可可豆產量為世界第一，占全球可可產量的四成請問：若以氣候條件判斷，上述國家最可能分布於圖中何處？(A)甲(B)乙(C)丙 (D)丁



答案 1~5 ACCBC 6~7 BC

[背面尚有題庫，請繼續複習~]

答案:

1	2	3	4	5
B	D	B	C	B
6	7			
B	C			

1. () 若要將資源做最有效的利用，應該如何選擇？
 - (A) 選擇機會成本最大的
 - (B) 選擇機會成本最小的
 - (C) 選擇自己最喜歡的
 - (D) 沒有一定的規則可循
2. () 下列有關利潤的敘述，何者正確？
 - (A) 產品價格乘以銷售量的金額
 - (B) 生產成本扣除銷貨收入的金額
 - (C) 生產成本乘以銷售量的金額
 - (D) 銷貨收入扣除生產成本的金額
3. () 一般而言，貨幣的價值是以何者作為衡量標準？
 - (A) 貨幣發行的數量
 - (B) 能夠購買到的商品數量
 - (C) 貨幣的面額大小
 - (D) 在國際市場的普及率
4. () 經濟不景氣，許多工廠放起「無薪假」，老闆希望員工可以共體時艱，度過景氣寒冬。請問：老闆就是想以何種方式維持經營？
 - (A) 增加銷貨收入
 - (B) 增加銷售量
 - (C) 減少生產成本
 - (D) 降低利潤
5. () 為了保障契約當事人的權利與義務，確保雙方當事人均能獲得公平的對待，民法訂有若干原則，下列何者被視為是最高指導原則？
 - (A) 契約自由原則
 - (B) 誠實信用原則
 - (C) 罪刑法定原則
 - (D) 公序良俗原則
6. () 小宏在一場演講中提到：「民眾遇到法律糾紛，可以到鎮公所找我們當和事佬，協商成立、經法院核定，效力等同於法院的判決喔！」請問：小宏最可能是擔任下列何種角色？
 - (A) 仲裁人
 - (B) 調解委員
 - (C) 承租人
 - (D) 監察委員
7. () 小臻聽到新聞報導說：「近期新臺幣貶值……」，後續的相關報導內容最可能是下列何者？
 - (A) 最適合參加旅行團出國旅遊
 - (B) 有利於廠商進口貨物
 - (C) 有助於增加我國對外出口貿易量
 - (D) 外國貨幣可兌換的新臺幣變少