

二林高中 112 學年度上學期社會領域補考題庫 (國中部 2 年級)

班級：_____ 座號：_____ 姓名：_____

只要歷史、地理、公民任一科不及格，都要複習三科題庫；並於補考時，完整作答歷史、地理、公民的題目。

二林高中 112 學年度第一學期 國二歷史補考題庫

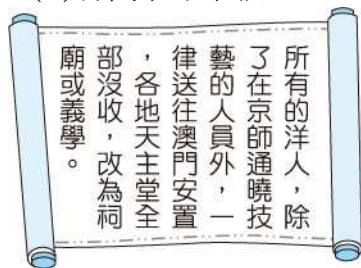
- (C) 「君王集軍政大權於一身，其下有輔助推動政務的宰相，以及漸趨系統化和專業化的文武官員，地方上的郡縣長官也由君王直接任命。這些大小官員大部分不再是憑藉血緣世襲的封建貴族，而是平民出身的才學之士。」上文最能說明中國歷史上何種情況的發展？ (A)封建的建立 (B)禮樂的推行 (C)中央集權的形成 (D)世族社會的出現。
- (D) 附圖呈現某一時期中外交流概況，下列何者符合該時期的往來情形？ (A)雙方以爭奪作為交易的手段 (B)儒學研究隨著商人傳入中國 (C)西方出口稻米、鴉片等作物 (D)中國以絲綢為主要輸出商品。



- (C) 老師在課堂上用下表講解某一主題，根據內容判斷，此主題最可能是下列何者？ (A)阿拉伯勢力的擴展 (B)唐朝勢力的擴張 (C)蒙古民族的對外征服 (D)契丹民族的對外征服。

| 時間 | 事件 |
|---------|-------------------------|
| 1220 年代 | ★擊敗中亞的花刺子模 |
| 1230 年代 | ★消滅金國 ★占領今日俄羅斯、烏克蘭等地 |
| 1240 年代 | ★攻入今日東歐地區 |

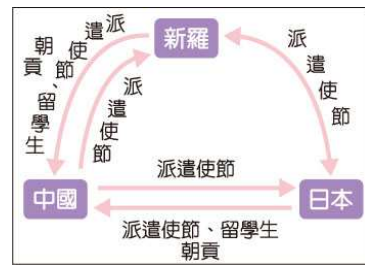
- (D) 附圖是中國歷史上某一史事的相關內容，根據內文判斷，該史事最可能是下列何者？ (A)秦代統一度量衡 (B)漢代設立太學 (C)隋代廢除九品官人之法 (D)清代下令禁教。



- (A) 下圖呈現清代中期以後，朝廷允許外國傳教士在華活動範圍逐漸改變的情形。造成此轉變的原因，最可能是下列何者？ (A)清帝國簽訂不平等條約 (B)伊斯蘭教傳入中國之後 (C)清廷推動自強運動政策之後 (D)中國經濟重心由沿海轉向內陸。



- (A) 附圖是某一時期亞洲三個國家交流的情形，根據內容判斷，此時期的交流對當時日本造成了何種影響？ (A)積極吸收中國文化 (B)天皇大權旁落 (C)日本成為強國 (D)斷絕與各國往來。



- (C) 1905 年的中國報紙報導：「這一場戰爭，是君主立憲戰勝君主專制的最佳寫照。我們的政府應該也要仿行君主立憲的體制，讓國家富強。」根據上述的內容，所指的應是下列哪場戰爭？ (A)鴉片戰爭 (B)英法聯軍 (C)日俄戰爭 (D)八國聯軍。

二林高中 112 學年度第一學期 國二地理補考題庫

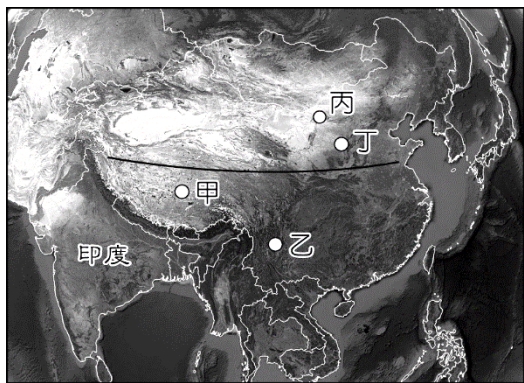
- 從哈爾濱到上海再到三亞，一月月均溫有愈來愈高的趨勢，這與下列哪項因素最相關？ (A)經度跨距 (B)緯度高低 (C)地勢高低 (D)距海遠近。

- 「中國深圳因民工眾多，有業者看準這股商機，推出一種用貨櫃做成的廉價旅館，住宿一個晚上的費用不到新臺幣 30 元，儘管如此，仍有許多在內陸地區找不到工作而流浪至此打工的人，負擔不起這筆費用。」上述情況可能與下列哪個中國社會現象的關係最密切？ (A)人口數量過多 (B)通貨膨脹嚴重 (C)區域發展不均 (D)勞工成本上漲。

- 印尼最大的唐人街位於雅加達的草埔 (Glodok)。草埔知名的建築物金德院，便是當地最早的華人寺廟之一。除印尼之外，許多東南亞國家也有不少華人居住。請問：這些華人的祖先原先最可能居住在中國境內哪種地理環境？ (A)水草豐美的草原 (B)丘陵或沿海平原 (C)群山環繞的盆地。

- 「法國今年的聖誕節是個非常『中國化』的節日，堆放在聖誕樹下的禮品都是中國生產的，而樹上懸掛的彩球、燈泡等裝飾品，甚至整棵聖誕樹也都來自中國。」上述現象與中國的何項特色最為相關？ (A)農礦資源豐富 (B)邊境貿易活絡 (C)國內消費市場廣大 (D)勞工多且工資低廉。

- 小翰到中國旅遊，看到旅遊導覽寫著：「奔馳在海拔五千多公尺高的鐵路，是歷經數十年打破凍土阻礙，沿途行經浩瀚無垠的戈壁灘、湛藍通透的青海湖，豐富多樣的瑰麗風景，既神祕且震懾人心。」根據導覽內容，小翰最可能到下列何地旅遊？ (A)甲 (B)乙 (C)丙 (D)丁。



6. 中國的少數民族藏族，主要分布於青藏高原上，有關於青藏高原的描述，下列何者有誤？ (A)地勢高聳 (B)夏季溫度較同緯度其他地區低 (C)位在中國三大氣候區的乾燥氣候區中 (D)氣溫與植被隨高度呈垂直變化。

7. 何者不是日本、南韓皆具有的經濟發展特色？ (A)原料多需仰賴進口 (B)產品多以外銷世界為主 (C)出口汽車、高科技產品等高單價物品為主 (D)兩國人口眾多，現在以「世界市場」聞名。

解答：BCBDACD

二林高中112學年度第一學期 國二公民補考題庫

1. 自 1996 年總統民選至今，我國已經歷經三次政黨輪替。請問：民主國家中，由兩個以上的政黨進行公平競爭，爭取執政機會是發揮民主政治的哪一個特色？

(A)民意政治 (B)法治政治 (C)政黨政治 (D)責任政治。

2. 「國家所有法令都必須符合《憲法》的規定。因此法律和命令都不可以抵觸《憲法》，否則無效。」上述內容強調《憲法》的哪一項特性？

(A)最高性 (B)固定性 (C)差異性 (D)原則性。

3. 經濟不景氣，許多人都想找個鐵飯碗來保障生活，因此使得參與公務人員考試的人數一年比一年多。請問：人民有權利參與政府舉辦的公務人員考試，這是屬於《憲法》所保障的哪種權利？

(A)平等權 (B)自由權 (C)受益權 (D)參政權。

4. 立法委員可以對總統提名的哪些司法院重要官員行使同意權？甲、大法官；乙、法官；丙、司法院正、副院長；丁、法務部部長

(A)甲丙 (B)甲乙丙 (C)甲丙丁 (D)甲乙丙丁。

5. 志成先生通過國家考試，他即將要去的機關是負責主管公務人員的銓敘、撫卹、退休及其任免等事項。請問：志

成先生考上的機關應該是下列何者？

(A)立法院 (B)監察院 (C)考試院 (D)行政院。

6. 新北市全力打造「全臺借書最強卡」，繼 2017 年與基隆市、2018年與臺北市展開閱讀資源共享的區域合作後，2019年持續將閱讀服務向南延伸到桃園市，透過四縣市的跨域合作，來營造北北基桃的閱讀生活圈。未來只要透過一張借書證，就可以互相借閱四市圖書，給予民眾 2,000 萬本書的多元選擇，將有近千萬的民眾可受惠。有關該措施所反映出的地方政府職權，下列何者最為正確？

(A)此政策為教育文化項目，是中央政府的權限
(B)透過跨區域合作的方式，可以擴大圖書資源
(C)資源共享法律上只限於同一生活圈的北北基
(D)此為跨縣市的區域合作，需由中央政府推動。

7. 立法院制定《公民投票法》，主要是讓人民可以直接參與公共政策的決策與法案的制定。請問：此法可以落實《憲法》保障的哪些權利？

(A)選舉權、創制權 (B)創制權、複決權
(C)選舉權、罷免權 (D)選舉權、複決權。

答案:

1C 2A 3D 4A 5C 6B 7B