

二林高中 112 學年度上學期社會領域補考題庫 (國中部 1 年級)

班級：___ 座號：___ 姓名：___

只要歷史、地理、公民任一科不及格，都要複習三科題庫；並於補考時，完整作答歷史、地理、公民的題目。

二林高中 112 學年度第一學期 國一歷史補考題庫

1. (B) 附圖呈現古代人類的幾種生活樣貌，臺灣的圓山文化應涵蓋其中哪些活動？ (A)甲乙丁戊 (B)甲丙丁戊 (C)乙丁戊己 (D)丙丁戊己。

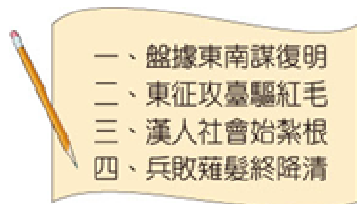


2. (D) 18世紀時，有一位歐洲貴族乘船漂流至臺灣某地區，發現清廷並未在該地區設置廳、縣治理，因此當他返回歐洲後，大力遊說各國派兵來此區建立殖民地。上述「未設置廳、縣治理」的地區，最可能是右上圖中甲、乙、丙、丁何處？ (A)甲 (B)乙 (C)丙 (D)丁。

3. (C) 動畫公司設計一部名為「百步蛇與太陽旗的戰爭」的短片，若影片內容須合乎歷史發展脈絡，則下圖中「丙場景」應為下列何者？ (A) 淡水、基隆為主要戰場，兩軍死傷無數 (B)原住民在南投山區抗日，日軍傷亡慘重 (C)朝廷任命沈葆楨為欽差大臣，來臺加強防務 (D)清廷派軍參戰，因戰事失利，被迫割讓臺灣。

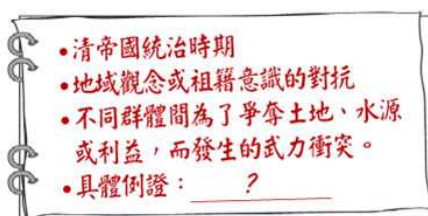


4. (B) 右圖中的句子，是學生報告的段落標題。此份報告的題目，最可能是下列何者？ (A) 荷西爭奪臺灣 (B)鄭氏三代經營 (C)日本實施鎖國政策 (D)大航海時代貿易。



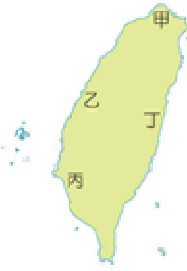
5. (C) 十七世紀他們來臺時，除了占領今日的基隆、淡水以外，更將勢力擴張到宜蘭一帶，並積極宣揚天主教信仰，試圖改變當地漢人及原住民的信仰文化。上述的「他們」指的應該是何人？ (A)荷蘭人 (B)英國人 (C)西班牙人 (D)葡萄牙人。

6. (D) 下圖描述臺灣史上某一時期的社會現象，圖中的「具體例證」，最適合填入下列何者？ (A)地主與官府的對抗 (B)郊商與洋商的對抗 (C)士紳與傳教士的衝突 (D)漳州人與泉州人的衝突。



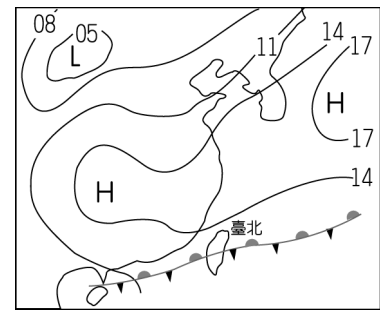
7. (A) 下表是臺灣開港通商後，部分洋行在臺的營運狀況。若考慮當時商品產區與出口地，這些洋行最可能皆設置於圖中何處？ (A)甲 (B)乙 (C)丙 (D)丁。

名稱	主要出口商品
寶順洋行	茶
美利士洋行	樟腦
公泰洋行	樟腦
費爾·哈士迪斯洋行	樟腦、煤

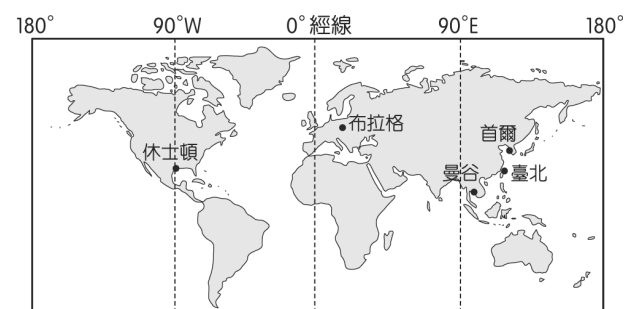


二林高中 112 學年度第一學期 國一地理補考題庫

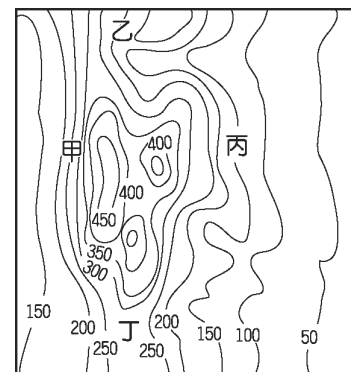
1. () 附圖是某年 5 月 25 日 9 時的地面天氣圖。此時經過臺灣上空的鋒面為何？



- (A)冷鋒 (B)暖鋒 (C)滯留鋒 (D)無法判定。
2. () 國際上常利用城市外交的方法讓該國增加國際曝光度。附圖為某國城市的姊妹市，其中哪一城市和臺灣的時差最小？

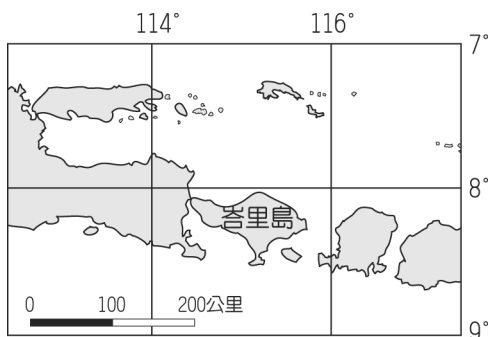


- (A)首爾 (B)休士頓 (C)曼谷 (D)布拉格。
3. () 附圖的等高線地形圖中，坡面最陡之處是下列何者？



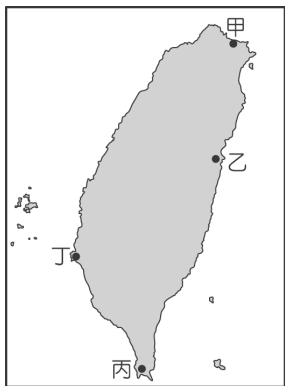
- (A)甲 (B)乙 (C)丙 (D)丁。

4. () 附圖是峇里島的地圖資料，從這張地圖中，無法得到下列哪一種資料？



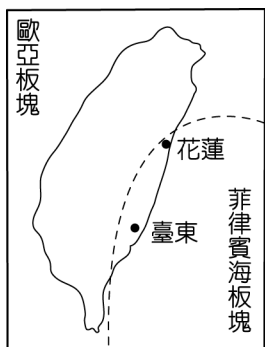
(A)距離 (B)面積 (C)高度 (D)位置。

5. () 因發展養殖漁業大量抽取地下水，將造成沿海地區地層下陷等相關問題。請問：地層下陷問題最嚴重的地區，主要分布於附圖中哪一個地方？



(A)甲 (B)乙 (C)丙 (D)丁。

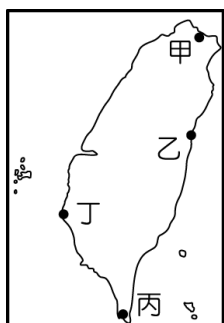
6. () 臺灣的地理位置正好處於海陸板塊的交界地帶，相關的構造作用如附圖所示。請問：這種地質現象和臺灣哪一種自然環境特色的關係最小？



(A)地震頻繁 (B)火山分布
(C)地勢高聳 (D)氣候炎熱。

7. 「多岬角與海灣，是臺灣各地海岸中最曲折的一段。」以上所形容的是下圖中哪一段海岸特色？

(A)甲 (B)乙 (C)丙 (D)丁。



解答:

1~5 C A A C D

6~7 D A

1. () 國三生嘉鈞與家人們討論未來的夢想職業，家人都分享自己的看法，何人的價值觀念不具備刻板印象？
(A)爸爸：幼保科是女人的專利，別去跟他們搶飯碗
(B)媽媽：男生當工程師才可以光宗耀祖
(C)奶奶：喜歡做什麼就努力去達成自己的目標
(D)妹妹：男模特兒要有六塊肌、高又瘦，顏質也要夠高。
2. () 某男子搭乘公車時，趁機觸摸身旁女子的左胸，臺北地方法院依「法」判該男子3個月徒刑，可易科罰金。請問：上述案例中，法官是依照何法而做出判決？ (A)《性騷擾防治法》 (B)《性別平等教育法》 (C)《性別工作平等法》 (D)《公民投票法》。
3. () 現今的社會什麼都漲，只有薪水沒有漲，年輕人無法負荷高房貸，買不起屬於自己的房子，因此多數的夫妻不願意生孩子，造成社會勞動力不足，請問這是哪一項家庭功能的轉變？
(A)生育功能 (B)保護與照顧功能
(C)教育功能 (D)經濟功能
4. () 雅琪的舅舅和舅媽七年愛情長跑，最終訂於今年9月27日舉行結婚典禮，象徵「就愛妻」的宣言，一生一世只愛你一人；婚宴當日，親友們盛裝打扮出席宴會，共乘結婚禮車。家庭成員之間的關係，何者正確？
(A)舅舅與舅媽是姻親關係
(B)雅琪與表妹是直系血親
(C)雅琪與阿姨是旁系血親
(D)外公與奶奶是姻親關係
5. () 政府為了要減緩少子化的危機，逐步制定相關政策，以下哪一個不適當？
(A)營造母嬰親善環境 (B)日間照顧 (C)公共托育
(D)育嬰假
6. () 當同學鼓譟的討論，仁傑舉手發言：「主席，大家同時發言，聲音太大聲，我聽不清楚所提的意見有哪些」。仁傑提出的是何種問題？
(A)權宜問題 (B)感情問題
(C)秩序問題 (D)課業問題
7. () (甲)原住民族地區 (乙)傳統規範 (丙)狩獵文化 (丁) 原住民。根據《原住民族基本法》規定，要被認定為「部落」，必須具備幾項構成要素。請問：上述哪些屬於部落的構成要素？
(A)甲乙丁 (B)甲乙丙
(C)乙丙丁 (D)甲乙丙丁

答案:

CAACB

AA